

# 海淀区 2023-2024 学年第二学期期末练习

## 高三历史

2024. 5

试卷共 8 页，100 分。考试时长 90 分钟。考生务必将答案答在答题卡上，在试卷上作答无效。考试结束后，将本试卷和答题卡一并交回。

### 第一部分

本部分共 15 题，每题 3 分，共 45 分。在每题列出的四个选项中，选出最符合题目要求的一项。

1. 《墨子》写道“国有贤良之士众，则国家之治厚；贤良之士寡，则国家之治薄”；《史记》载“孔子既没，子夏(孔子的学生)居西河教授，为魏文侯师”，“(齐)宣王喜文学游说之士，自如驺衍、淳于髡、田骈……七十六人，皆赐列第，为上大夫”。对上述现象理解准确的是

- ①战国时期形成尊贤重士的社会风气                      ②士阶层兴起促进了思想的繁荣  
③儒家学说被各诸侯国国君广泛采纳                      ④卿大夫掌握实权导致权力下移
- A.①②              B.①④              C.②③              D.②④

2. 东汉后期，成千上万的学生聚集于太学，儒生遍布于社会。“执法不挠、诛举邪臣”的李膺成为士人交往的核心。士人和正直官员不满现实，品评人物，抨击时政，称为“清议”。当李膺被诬为“党人”而被罢免归乡时，“天下士大夫皆高尚其道，而污秽朝廷”。上述材料反映的政治斗争出现的原因是

- A. 儒学成为官方正统思想                      B. 宦官专权导致政治黑暗  
C. 绿林起义动摇汉朝统治                      D. 中正官评定士人的品状

3. 北魏占领淮河流域以后，江淮间南北贸易频繁。北魏边缘州郡官员“皆无防寇御贼之心，唯有通商聚敛之意”。南朝梁的“郁洲(江苏连云港)接边陲，民俗多与魏人交市”。材料反映的历史现象的影响是

- A. 苻坚统一黄河流域促进南北交流                      B. 北魏实行俸禄制有利于吏治清明  
C. 南方民族交融促进商品经济发展                      D. 南北方之间经济沟通有利于统一

4. 《明史》载，明英宗天顺(1457—1464)年间起，“巡抚之寄专，而监司守牧(指各省的布政使、按察使、都指挥使与知府、知州)不得自展布(自作主张)”。这反映的史事是

- A. 元朝实行的行省制自此废除                      B. 明廷强化海防力量防范倭寇  
C. 朝廷委任巡抚总揽一省行政                      D. 削弱巡抚权力防止地方割据

5. 以下历史事实与历史解释对应正确的是

	历史事实	历史解释
A	春秋中后期，吴国王子季札出使中原列国，因其“晓诗书、通礼乐”，折服了中原列国的士子。	吴国通过会盟取得霸主地位
B	内迁后，匈奴人赫连勃勃自认为是夏后氏，宣称要“应运而生，复大禹之业”	赫连勃勃建立起西夏政权
C	元朝时，畏兀儿人贯云石凭吊屈原的散曲中写道：“楚怀王，忠臣跳入汨罗江。《离骚》读罢空惆怅，日月同光。”	此曲标志着中国古代戏剧艺术成熟
D	清朝前期，中央设置的理藩院注重用礼仪教化促进边疆民族的国家认同，中央还颁布《蒙古律例》《回疆则例》《钦定藏内善后章程》等。	清朝加强对边疆民族地区的管辖

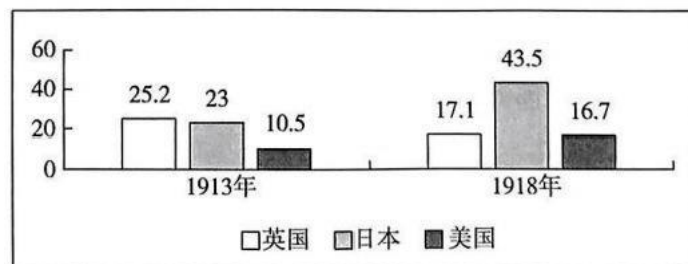
6.19 世纪四五十年代，随着西方殖民者相继在广州、上海等通商口岸开设工厂及进行城市基础设施建设，不少家庭手工业者被雇佣，逐步转化为产业工人。到 1894 年中国产业工人约有 10 万人，其中在外国资本企业劳动的约占 35%，在洋务企业中劳动的约占 37%，在其他类型近代企业中劳动的约占 28%。中国近代产业工人的产生

- A. 反映中国社会经济结构的变化                      B. 标志着工人阶级登上政治舞台  
C. 有利于民族资产阶级政治变革                      D. 标志着中国工业体系建立起来

7.20 世纪初，中国出现了一个不同于旧式士大夫的新型知识分子群体，在他们的知识结构里，占主导地位的不再是传统的四书五经，甚至也不是声、光、电、化等近代自然科学知识，而主要是变革、进化、尚武、民权等近代社会政治学说。对这一群体的形成，认识正确的是

- ①促使清朝官员“开眼看世界”                      ②得益于新式教育的不断发展  
③反映了救亡图存的时代要求                      ④导致立宪派和革命派的分化  
A.①②                      B.①④                      C.②③                      D.②④

8. 观察“英美日三国占列强对华贸易输入总额的百分比”柱状图



对图中数据变化的原因，解释正确的是

- ①英国忙于欧洲战争                      ②美国推行大棒政策  
③日本扩大侵华特权                      ④华盛顿会议的召开

A.①②                                      B.①③    C.②④                                      D.③④

9.1930年10月，毛泽东在《兴国调查》中列举了贫农在12个方面得到的利益：第一，分了田，这是根本利益。第二，分了山。……第五，吃便宜米。……第十一，自己可以吃肉了。第十二，最主要的就是取得了政权。上述变化

- A. 促进了革命统一战线建立                      B. 导致工农武装割据道路的开辟  
C. 体现土地革命取得的成果                      D. 标志着红军长征完成战略转移

10、中共中央确定周恩来率代表团参加日内瓦会议的方针是：“加强外交和国际活动，以破坏美国的封锁禁运、扩军备战的政策，以促进国际紧张局势的缓和”，并要力争解决越南问题，朝鲜问题要尽量缓和一些，不要搞得那么紧张。这次会议的成果是

- A. 促成朝鲜停战协定签字                      B. 政治解决印度支那问题  
C. 提出和平共处五项原则                      D. 形成“求同存异”方针

11. 公元前15世纪至公元前14世纪的《赫梯法典》规定：“假如任何人使男奴或女奴失明或敲落他的牙齿，则他应交付十玻鲁舍克勒银子，同时用自己的房屋担保。”“假如奴隶反抗自己的主人，则奴隶应被投入水中。”据此可知，《赫梯法典》

- A. 是研究古代希腊城邦的重要史料                      B. 是了解古代西亚埃及关系的依据  
C. 影响了《汉谟拉比法典》的制定                      D. 反映了赫梯阶级压迫和阶级斗争

12. 西班牙人本杰明在1165—1173年间的游记中记载，君士坦丁堡方圆18英里，形形色色的商人聚集在这里，他们来自美索不达米亚、波斯、埃及、巴勒斯坦、俄罗斯、匈牙利、意大利和西班牙。据此能得出的结论是

- A. 罗马帝国境内商业贸易空前繁荣                      B. 经济发展导致西欧的城市兴起  
C. 拜占庭帝国是沟通东西方的桥梁                      D. 征收重税影响东西方之间贸易

13. 《新全球史》指出，18世纪末19世纪初，一系列革命席卷了整个大西洋世界，给欧洲和美洲的政治、社会带来了巨大的转变。以下属于这一时期欧洲和美洲革命共同点的是

- A. 革命领导人大多认同主权在民                      B. 废除了欧美各国的君主政体  
C. 所有居民均获得同等政治权利                      D. 终结了英国的殖民霸主地位

14.19世纪80年代，德国进行社会立法，要求限制使用童工、保护妇女、缩短工时、规范医疗、设立事故和失业保险等。此举的影响有



“9月19日召开内阁紧急会议，已经决定极力防止上述事态扩大的方针……政府对于满洲(指中国东北)毫无领土欲望。”

### 材料二

序号	史料	来源
①	日军参谋本部军官桥本欣五郎写道：“(关东军)预定于(1931年)9月28日举行(军事行动)，没有特殊理由不许改变。后因消息走漏提前10天，改为9月18日。”	《桥本大佐手记》(1935年记)
②	九一八事变的策划和参与者花谷正回忆：“(1931年9月18日夜，河本中尉)以巡视铁路为名，率领部下数名向柳条湖方向走去。一边从侧面观察北大营的兵营(中国军队的军营)，一边选了主兵营约800米往南去的地点。在这里，河本亲自把骑兵用的小型炸药安放在铁轨下，并点了火，时间是10点多钟。爆炸时‘轰’的一声，炸断的铁轨和枕木向四处飞散。”	[日]花谷正《满洲事变是这样策划的》
③	1931年9月22日，日本内阁会议决定：“鉴于驻朝鲜军既已出动的这一事实(指21日日驻朝日军越境进攻辽宁和吉林)，结论是承认此事。既已承认事实，内阁决定支付其经费。”	[日]关宽治《满洲事变》
④	9月19日，日军侵占辽宁的沈阳、安东、营口、抚顺、海城、凤城、辽阳、本溪、盖平、复县、四平街，占领吉林的长春； 9月20日至23日，日军侵占辽宁的昌图、辽源以及吉林的吉林市、敦化。	陈觉《“九一八”后国难痛史资料》(1932年)

(1)阅读材料一和材料二，运用史实，对日本政府关于九一八事变的谎言进行批驳。(6分)

### 材料三

①1940年日军大将阿部信行写道：立足于四川盆地的重庆政府，对于日本来说已不足为虑，但是共产党的力量却延伸到中国各地，一举手一投足都极为深刻地影响到中国的命运，共产党无论何时都主张对日抗战，阻挡了日本将中国殖民地化的“进路”，因而成为所谓“东亚新秩序”的头号大敌。

②1944年日本华北方面军参谋部研讨所谓中国形势时，提到了“中共以毛泽东名义”提出的持久战“三阶段论”，不得不承认中日战争“大体上是沿着上述阶段过来的”，并且认为“中共必然实施大反攻的概率很大”。

③1943—1944年日本天皇的弟弟考察中国战场后，对侵华日军高级军官发表讲话，列

举了日本军人的残暴行为，“如掠夺、强奸、杀害平民、放火等等……给中国的抗日宣传提供了事实根据”，特别指出共产党的军队“对民众的军纪也特别严明，决非日本军队所能企及”，在这种情况下，“在我看来，这样的日本军队，是无法与中共对阵的”。

(2)辨析材料三中的史料，并说明史料反映了怎样的历史事实。(7分)

#### 18.(11分)发展中国家的现代化

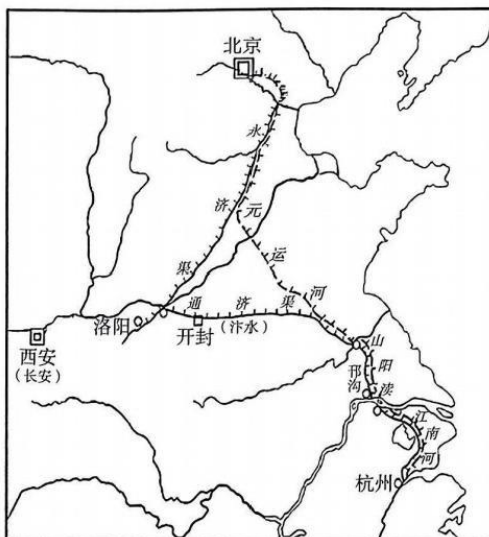
对非西方国家来说，要完成现代化，第一步就是建立现代国家，确保独立自主的国家地位，为经济社会发展提供政治保障。接下来是发展现代经济，完成工业化，积累雄厚的物质基础，提高人民生活水平。与此同时，需努力建设现代社会，完成社会转型，为人民创造享受美好生活的社会环境。因此，建立现代国家、发展现代经济、建设现代社会就成为现代化的三项任务，是世界各国都回避不了的历史命题。20世纪的各国历史都是围绕这三项任务展开的，无论这些历史有多么复杂、多么起伏，全世界各国的历史确实都被纳入这一相同的轨道上来了，形成了前所未有的大整合，从分散到整体的历史进程出现了关键性进展。

——钱乘旦主编《新世界史纲要》

阅读材料，结合所学，评析发展中国家的现代化。(11分)

#### 19.(12分)大运河：“至今千里赖通波”

**材料一** 唐朝统治结束后，都城的建置总体上呈现东移、南迁和北移的趋势。“汴水自唐末溃决”，后周世宗“因故堤疏导之”，以开封为中心，“导河流达于淮，于是江淮舟楫始通”(《资治通鉴》)。北宋时一直有迁都之议。宋神宗时大臣张方平说：“今之京师(开封)，古所谓陈留，天下四冲八达之地，非如函秦天府……洛宅九州之中，表里山河，形胜足恃。”(《续资治通鉴长编》)但终北宋一朝，都城并未迁离开封。《宋史·河渠志》写道：“汴水横贯中国，首承大河，漕引江、湖，利尽南海，半天下之财赋，并山泽之百货，悉由此路而进。”“靖康之变”后，南宋建都杭州。元明清三朝在绝大部分时间里均以北京为都城。



大运河示意图

——摘编自《中国历史地理》和《中国大运河》等

## 材料二

晚清时期，由于黄河泛滥和国势衰微，大运河淤塞日益严重。1901年，清政府宣告停止漕运，千年漕运史终止。

新中国成立以后，大运河的价值被重新审视，它被全面治理、修复，开始重新焕发青春。

2002年，南水北调工程开工。南水北调的东线经由京杭大运河，向黄淮海平原东部、胶东地区和津冀地区提供生产生活用水。

进入21世纪，大运河在大宗货物运输方面呈现出不可替代的优势。大运河苏北段北煤南运的年运量在3亿吨以上，3倍于京沪铁路。大运河也是北粮南运和南货北调的重要通道。

2020年，习近平指出，“千百年来，运河滋养两岸城市和人民，是运河两岸人民的致富河、幸福河。希望大家共同保护好大运河，使运河永远造福人民”。

大运河山东微山湖至杭州约800公里河段，其运量比欧洲最大的航运河莱茵河多1亿吨，是全球货运量排名第四的河道。2022年，大运河总运量达8亿吨。

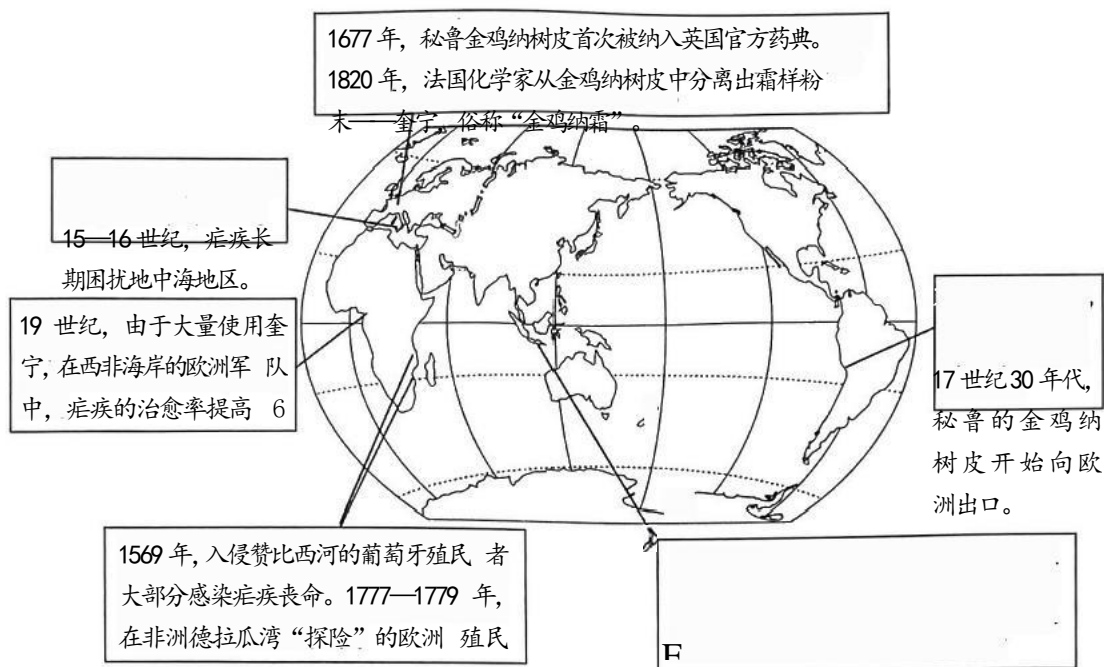
2022年，中共中央和国务院印发《“十四五”文化发展规划》，提出要建设大运河国家文化公园，挖掘大运河历史文化资源，提升保护传承和发掘利用能力，构建国家记忆体系。

——摘编自《京杭大运河经济带进入“重塑时间”》等

- (1) 阅读材料一，结合所学，说明唐朝以后，历代都城的建置与大运河的关系。(4分)
- (2) 在中国近现代历史上，大运河的变迁与国家命运休戚相关，对社会发展有重要影响。阅读材料二，结合所学，予以说明。(8分)

20.(9分)从奎宁到青蒿素

材料一



材料二 最初，奎宁治疗疟疾的效果很好，但是，随着疟原虫出现抗药性，奎宁的疗效严重下降。1930年全球有1000万人感染疟疾。20世纪60年代，疟疾在东南亚竟无法控制。

1967年，中国成立研制新特效药的项目组。项目组成员屠呦呦根据李时珍《本草纲目》中记述的青蒿能“治疟疾寒热”，以青蒿为重点研究对象；受东晋葛洪的《肘后备急方》中“青蒿一握，以水二升渍，绞取汁，尽服之”记载的启发，成功提取出青蒿素。药物实验发现，青蒿素的治愈率比奎宁高，还不易引发儿童高热惊厥。随着青蒿素的推广应用，全球疟疾治愈率提高了50%，感染率降低了40%。世界同行认为“青蒿素的发现不愧是现代医学史上的一项伟大的成就”。

——摘编自《改变世界的奎宁》和《抗击疟疾——从金鸡纳霜到青蒿素》等

阅读材料，并结合所学，评述人类对抗疟疾的历程。(9分)

(考生务必将答案答在答题卡上，在试卷上作答无效)